

# 数理計画法

- 第11回:多面体と双対定理・相補性定理

# 今後の授業日程について

- 年内の授業
  - 12月17日、第12回「内点法の原理」
- 年初の授業
  - 1月14日、第13回「ニュートン法」
  - 1月21日、第14回「演習」(予定)
- 期末試験
  - 1月28日(水)1時限目、工講義棟43番教室(予定)

# 授業関連情報について

- <http://comp.cs.ehime-u.ac.jp/mathpro/>
- 授業で使った資料のダウンロード
- 演習解答の提出状況、出席状況（年内に出します）
- 最後の授業「演習」の資料
  - 用意でき次第連絡しますので、あらかじめダウンロードしておいてください。

# 復習：線形計画問題と多面体

定義： $n$ 次元実ベクトル空間  $\mathbb{R}^n$  の多面体  $\mathcal{P}$

$$\mathcal{P} = \{x \in \mathbb{R}^n \mid A_1 x = b_1, A_2 x \leq b_2\}$$

このように行列  $A_1, A_2$ 、ベクトル  $b_1, b_2$  で表わされる部分集合  $\mathcal{P}$  を  $\mathbb{R}^n$  の多面体と呼ぶ。

※この定義では面や直線、点、半平面も多面体となる

$$\begin{array}{ll} \text{面:} & A_1 = (a_1, a_2, a_3) & \text{点:} & A_1 = \begin{pmatrix} a_{11}, a_{12}, a_{13} \\ a_{21}, a_{22}, a_{23} \\ a_{31}, a_{32}, a_{33} \end{pmatrix} \\ \text{直線:} & A_1 = \begin{pmatrix} a_{11}, a_{12}, a_{13} \\ a_{21}, a_{22}, a_{23} \end{pmatrix} & & \end{array}$$

※上は全て 3次元の場合

定義：有界多面体

$\forall x \in \mathcal{P}, \|x\| \leq \exists M$  を満たす定数  $M$  が存在するとき、 $\mathcal{P}$  を有界多面体と呼ぶ。

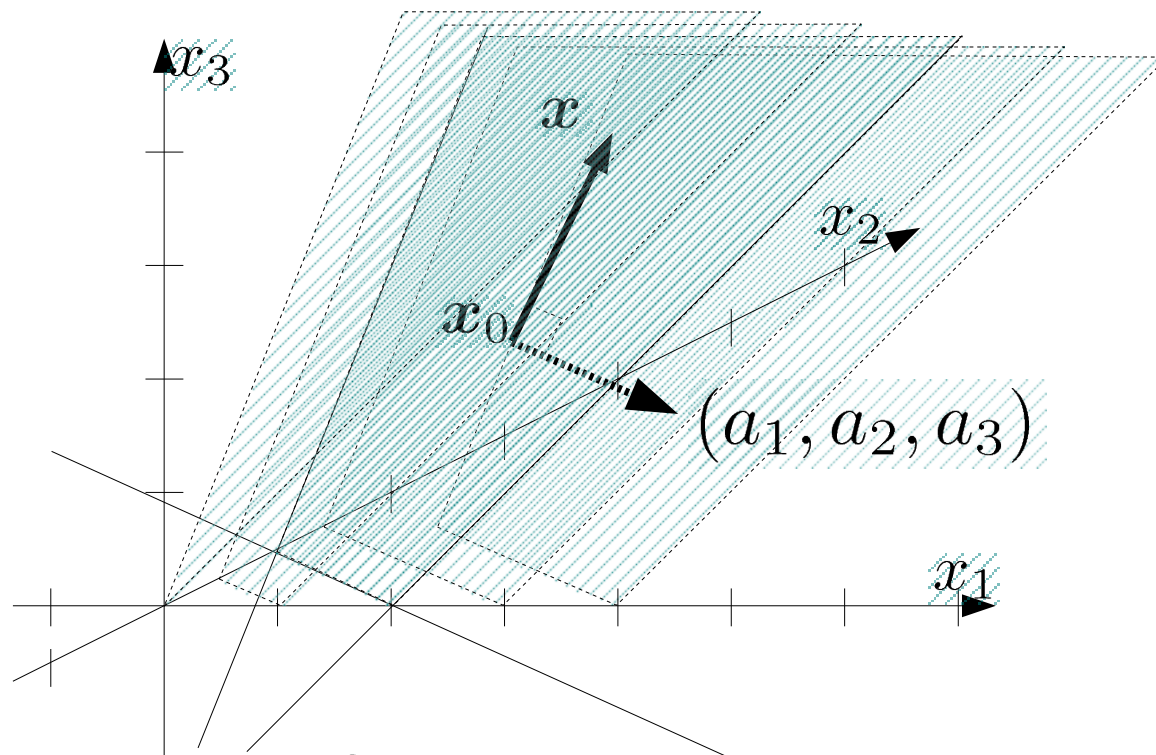
# 復習：線形計画問題と多面体

定義： $n$ 次元実ベクトル空間  $\mathbb{R}^n$  の多面体  $\mathcal{P}$

$$\mathcal{P} = \{x \in \mathbb{R}^n \mid A_1 x = b_1, A_2 x \leq b_2\}$$

3次元の平面を構成する多面体：

$$A_1 = (a_1, a_2, a_3), b_1 = b_1 \quad A_1 x_0 = b_1$$



$$x \in \{x \in \mathbb{R}^3 \mid (a_1, a_2, a_3)(x - x_0) = 0\}$$

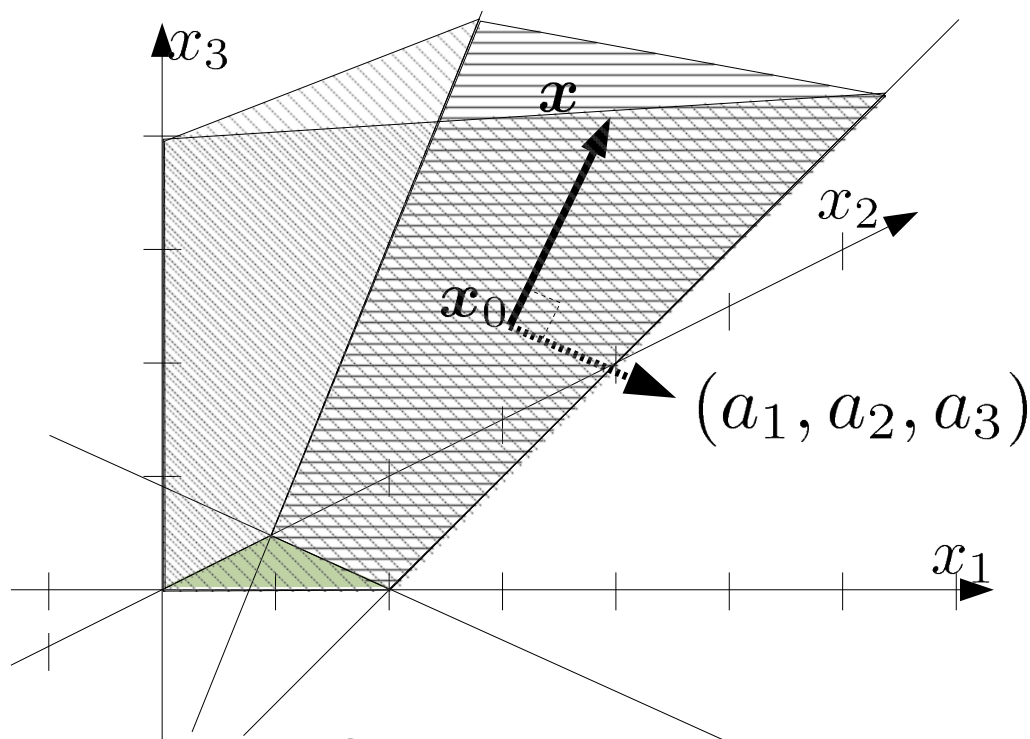
# 復習：線形計画問題と多面体

定義： $n$ 次元実ベクトル空間  $\mathbb{R}^n$  の多面体  $\mathcal{P}$

$$\mathcal{P} = \{x \in \mathbb{R}^n \mid A_1 x = b_1, A_2 x \leq b_2\}$$

3次元領域を2分する多面体：

$$A_2 = (a_1, a_2, a_3), b_2 = b \quad A_2 x_0 = b$$



$$x \in \{x \in \mathbb{R}^3 \mid (a_1, a_2, a_3)(x - x_0) = 0\}$$

# 復習：線形計画問題と多面体

定義： $n$ 次元実ベクトル空間  $\mathbb{R}^n$  の多面体  $\mathcal{P}$

$$\mathcal{P} = \{x \in \mathbb{R}^n \mid A_1 x = b_1, A_2 x \leq b_2\}$$

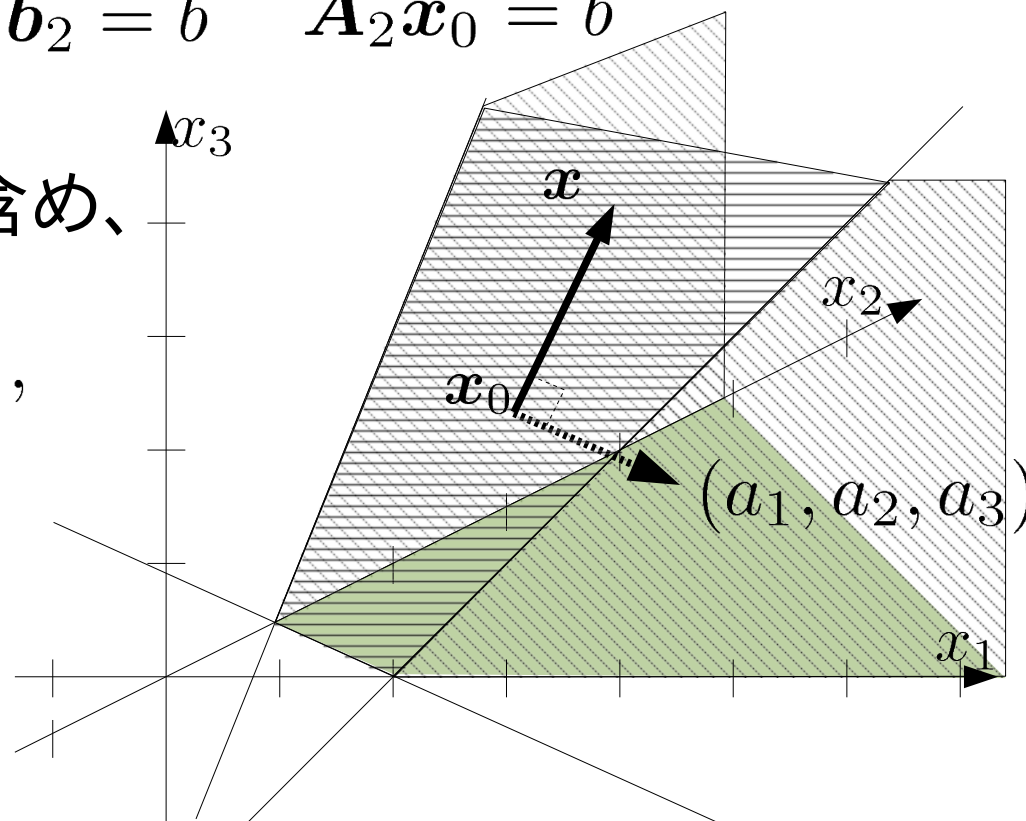
3次元領域を2分する多面体：

$$A_2 = -(a_1, a_2, a_3), b_2 = b \quad A_2 x_0 = b$$

正確には非負条件も含め、

$$A_2 = \begin{pmatrix} -(a_1, a_2, a_3) \\ -I \end{pmatrix},$$

$$b_2 = \begin{pmatrix} b \\ \mathbf{0} \end{pmatrix}$$



$$x \in \{x \in \mathbb{R}^3 \mid (a_1, a_2, a_3)(x - x_0) = 0\}$$

# 復習：線形計画問題と多面体

定義： $n$ 次元実ベクトル空間  $\mathbb{R}^n$  の多面体  $\mathcal{P}$

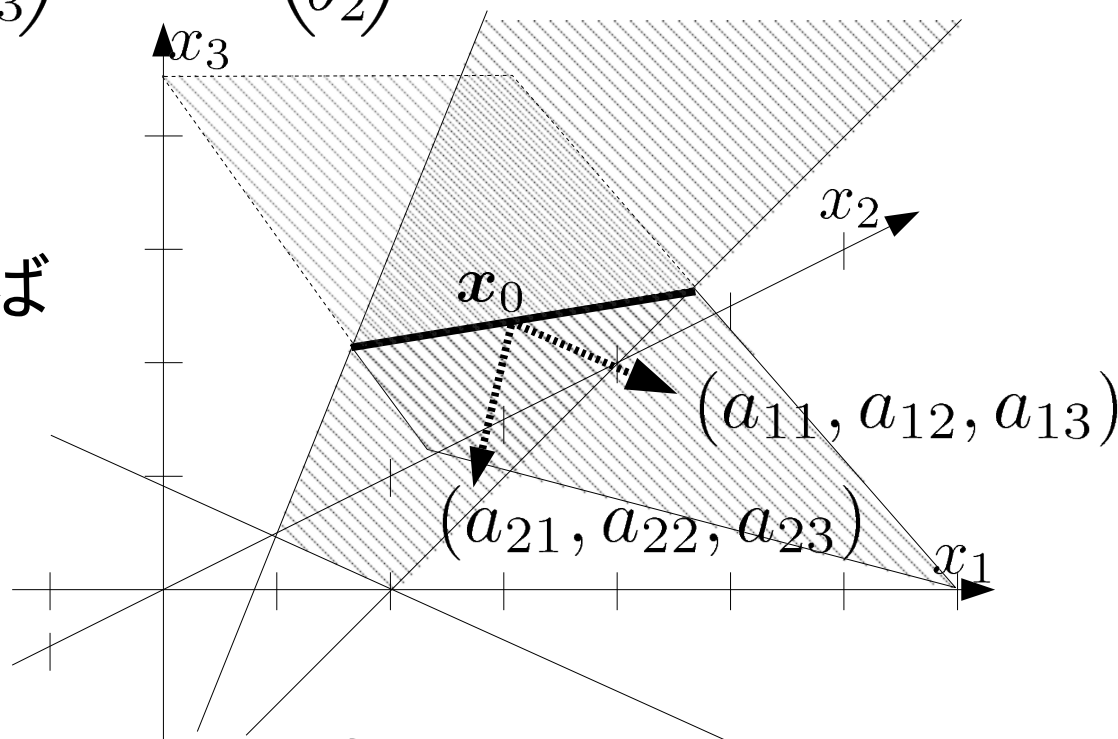
$$\mathcal{P} = \{x \in \mathbb{R}^n \mid A_1 x = b_1, A_2 x \leq b_2\}$$

3次元の直線を構成する多面体：

$$A_1 = \begin{pmatrix} a_{11} & a_{12} & a_{13} \\ a_{21} & a_{22} & a_{23} \end{pmatrix}, b_1 = \begin{pmatrix} b_1 \\ b_2 \end{pmatrix}$$

$$A_1 x_0 = b_1$$

非負条件を入れれば  
線分になる



$$x \in \{x \in \mathbb{R}^3 \mid (a_1, a_2, a_3)(x - x_0) = 0\}$$



# 復習：線形計画問題と多面体

定義： $n$ 次元実ベクトル空間  $\mathbb{R}^n$  の多面体  $\mathcal{P}$

$$\mathcal{P} = \{x \in \mathbb{R}^n \mid A_1 x = b_1, A_2 x \leq b_2\}$$

$$A_1 = \begin{pmatrix} \mathbf{a}_1 \\ \vdots \\ \mathbf{a}_{N_1} \end{pmatrix}, b_1 = \begin{pmatrix} b_1 \\ \vdots \\ b_{N_1} \end{pmatrix}, A_2 = \begin{pmatrix} \mathbf{a}'_1 \\ \vdots \\ \mathbf{a}'_{N_2} \end{pmatrix}, b_2 = \begin{pmatrix} b'_1 \\ \vdots \\ b'_{N_2} \end{pmatrix}$$

多面体を構成する平面の法線ベクトル：

$$\mathbf{a}_1, \dots, \mathbf{a}_{N_1}, \mathbf{a}'_1, \dots, \mathbf{a}'_{N_2}$$

不等式標準形の不等式制約の係数に対応する  
「minimize  $z$ , subject to  $Ax \geq b$ 」のとき、 $A$  の行ベクトル毎に平面が考えられる。

$$A = (\mathbf{a}_1, \dots, \mathbf{a}_n)^T, b = (b_1, \dots, b_n)$$

$$\text{平面 } \ell : \mathbf{a}_\ell^T x \geq b_\ell \quad \ell = 1, \dots, n$$

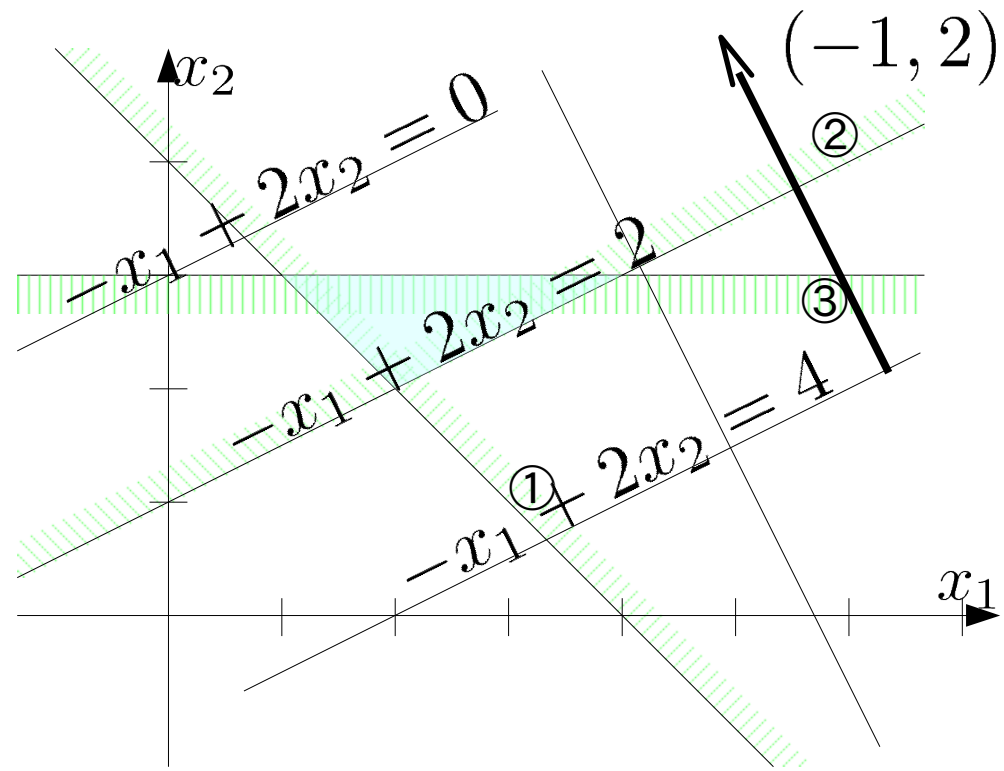
# 制約式の構成する多面体

## 不等式標準形

$$\begin{aligned} & \text{minimize} \\ & z = x_1 + 2x_2 \\ & \text{subject to} \\ & x_1 + x_2 \geq 4 \quad \textcircled{1} \\ & -x_1 + 2x_2 \geq 2 \quad \textcircled{2} \\ & -x_2 \geq -3 \quad \textcircled{3} \\ & x_1, x_2 \geq 0 \end{aligned}$$

## 等式標準形

$$\begin{aligned} & \text{minimize} \\ & z = x_1 + 2x_2 \\ & \text{subject to} \\ & x_1 + x_2 - s_1 = 4 \quad \textcircled{1} \\ & -x_1 + 2x_2 - s_2 = 2 \quad \textcircled{2} \\ & -x_2 - s_3 = -3 \quad \textcircled{3} \\ & x_1, x_2 \geq 0 \end{aligned}$$



主変数が法線ベクトル方向に変化するとスラック変数値が増加する。

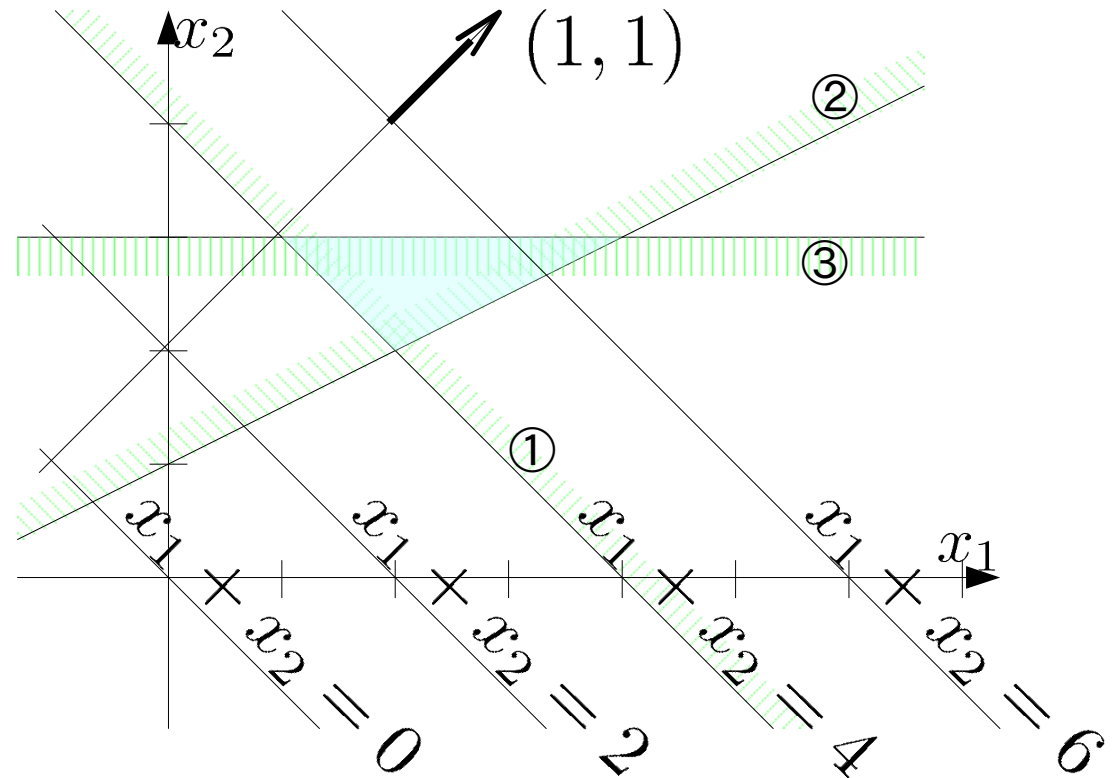
# 制約式の構成する多面体

## 不等式標準形

$$\begin{aligned} & \text{minimize} \\ & z = x_1 + 2x_2 \\ & \text{subject to} \\ & x_1 + x_2 \geq 4 \quad \textcircled{1} \\ & -x_1 + 2x_2 \geq 2 \quad \textcircled{2} \\ & -x_2 \geq -3 \quad \textcircled{3} \\ & x_1, x_2 \geq 0 \end{aligned}$$

## 等式標準形

$$\begin{aligned} & \text{minimize} \\ & z = x_1 + 2x_2 \\ & \text{subject to} \\ & x_1 + x_2 - s_1 = 4 \quad \textcircled{1} \\ & -x_1 + 2x_2 - s_2 = 2 \quad \textcircled{2} \\ & -x_2 - s_3 = -3 \quad \textcircled{3} \\ & x_1, x_2 \geq 0 \end{aligned}$$

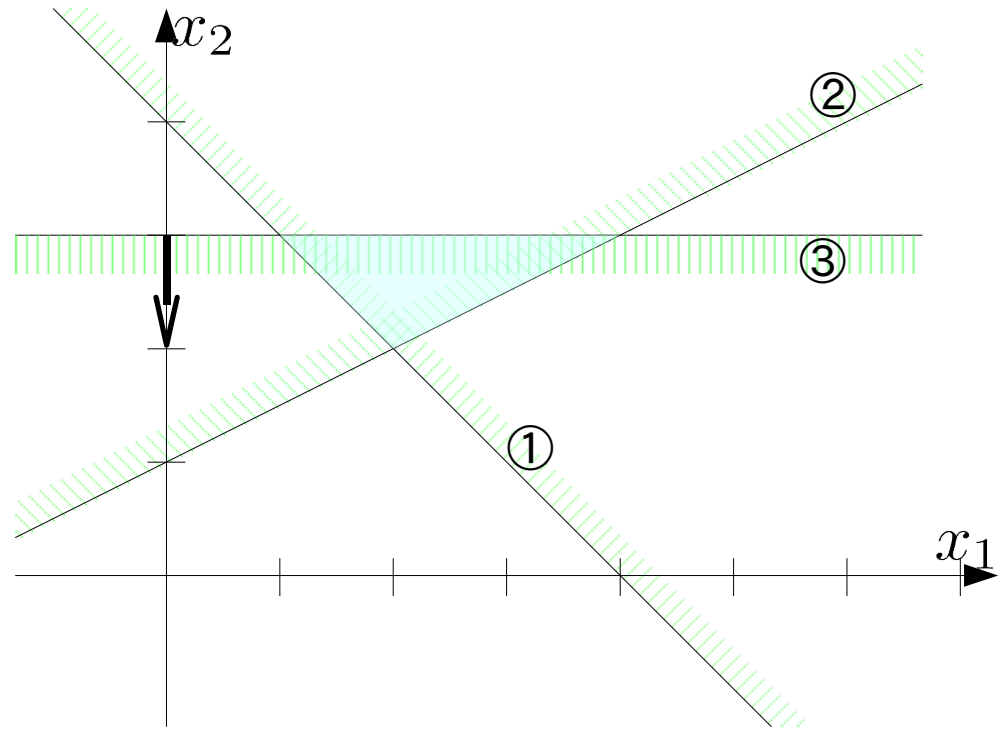


主変数が法線ベクトル方向に変化するとスラック変数値が増加する。

# 制約式の構成する多面体

## 不等式標準形

$$\begin{aligned} & \text{minimize} \\ & z = x_1 + 2x_2 \\ & \text{subject to} \\ & x_1 + x_2 \geq 4 \quad \textcircled{1} \\ & -x_1 + 2x_2 \geq 2 \quad \textcircled{2} \\ & -x_2 \geq -3 \quad \textcircled{3} \\ & x_1, x_2 \geq 0 \end{aligned}$$



## 等式標準形

$$\begin{aligned} & \text{minimize} \\ & z = x_1 + 2x_2 \\ & \text{subject to} \\ & x_1 + x_2 - s_1 = 4 \quad \textcircled{1} \\ & -x_1 + 2x_2 - s_2 = 2 \quad \textcircled{2} \\ & -x_2 - s_3 = -3 \quad \textcircled{3} \\ & x_1, x_2 \geq 0 \end{aligned}$$

主変数が法線ベクトル方向に変化するとスラック変数値が増加する。

# 復習：主問題と双対問題の関係

maximize

$$z = 2x_1 + x_2 + x_3$$

subject to

$$2x_1 + 2x_2 - x_3 \leq 4 \quad \textcircled{1}$$

$$2x_1 + 4x_3 \leq 4 \quad \textcircled{2}$$

$$-4x_1 + 3x_2 - x_3 \leq 1 \quad \textcircled{3}$$

$$x_1, x_2, x_3 \geq 0$$

最大化問題

minimize

$$w = 4y_1 + 4y_2 + y_3$$

subject to

$$2y_1 + 2y_2 - 4y_3 \geq 2$$

$$2y_1 + 3y_3 \geq 1$$

$$-y_1 + 4y_2 - y_3 \geq 1$$

$$y_1, y_2, y_3 \geq 0$$

最小化問題

最大化問題は、制約式で定める  
上界に一番近い実行可能解を探す問題  
2つの制約式から分かる上界の例：

$$z \leq (\textcircled{1} + \textcircled{2}) / 2 \quad 2x_1 + x_2 + \frac{3}{2}x_3 \leq 4$$

①②③の組み合わせで得られる関係式

$$y_1 \times \textcircled{1} + y_2 \times \textcircled{2} + y_3 \times$$

$y_1, y_2, y_3 \geq 0$  であれば、

$$= (2y_1 + 2y_2 - 4y_3)x_1 + (2y_1 + 3y_3)x_2 \\ + (-y_1 + 4y_2 - y_3)x_3 \leq (4y_1 + 4y_2 + y_3)$$

関係式の係数が目的関数の係数より大きければ、  
 $z \leq 4y_1 + 4y_2 + y_3$ により

目的関数の上界を得ることができる。

このとき、最も厳しい上界を求める問題、  
すなわち  $4y_1 + 4y_2 + y_3$  の最小化問題が  
 $z$  の上限を求める問題に対応する。

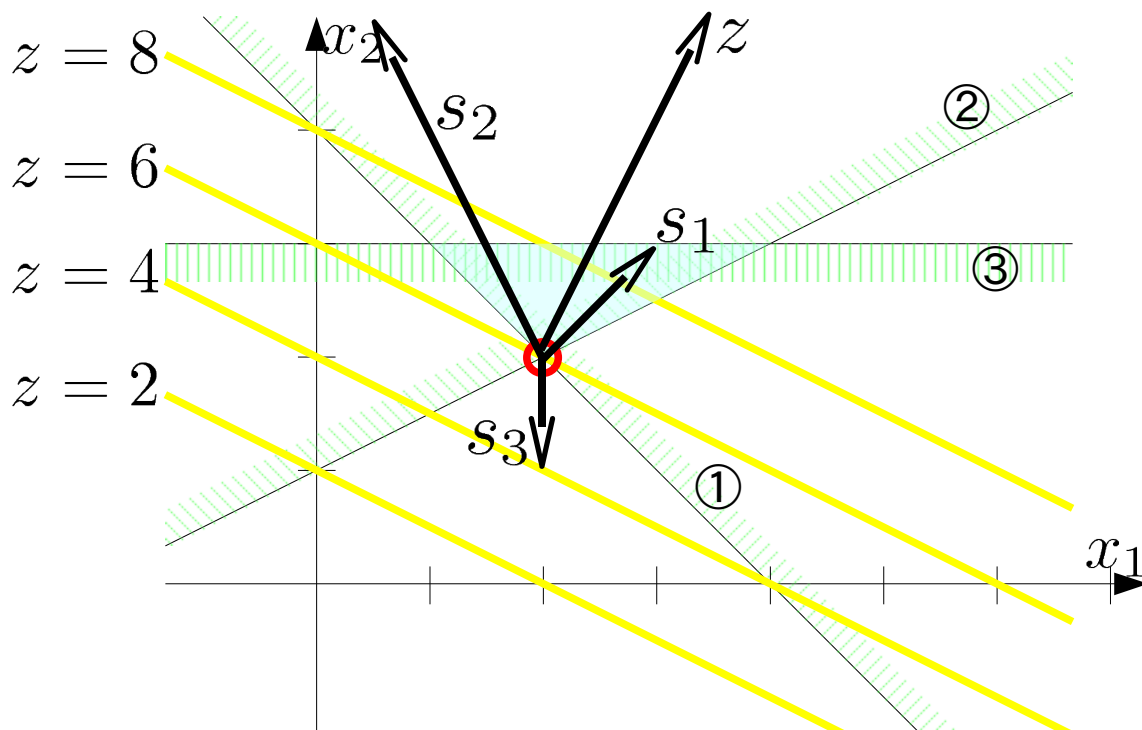
# 目的関数の作る平面

## 不等式標準形

$$\begin{aligned}
 &\text{minimize} \\
 & z = x_1 + 2x_2 \\
 &\text{subject to} \\
 & x_1 + x_2 \geq 4 \quad \textcircled{1} \\
 & -x_1 + 2x_2 \geq 2 \quad \textcircled{2} \\
 & -x_2 \geq -3 \quad \textcircled{3} \\
 & x_1, x_2 \geq 0
 \end{aligned}$$

## 等式標準形

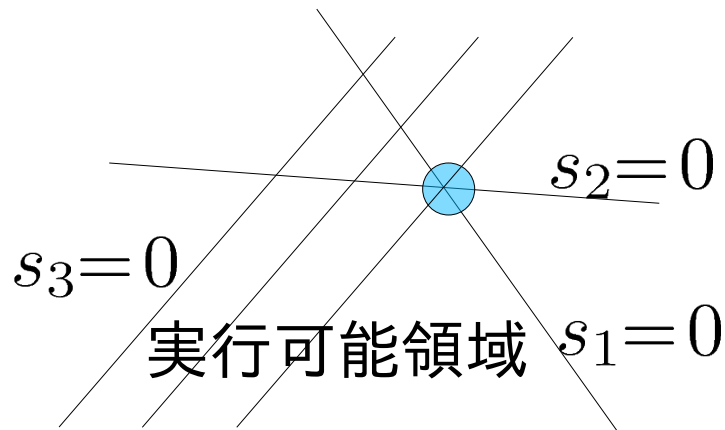
$$\begin{aligned}
 &\text{minimize} \\
 & z = x_1 + 2x_2 \\
 &\text{subject to} \\
 & x_1 + x_2 - s_1 = 4 \quad \textcircled{1} \\
 & -x_1 + 2x_2 - s_2 = 2 \quad \textcircled{2} \\
 & -x_2 - s_3 = -3 \quad \textcircled{3} \\
 & x_1, x_2 \geq 0
 \end{aligned}$$



制約式の組合せ=法線ベクトルの組合せ  
 ※目的関数のベクトルと平行にすれば、  
 双対定理に対応する下限の式が得られる

$$\begin{aligned}
 &y_1 s_1 + y_2 s_2 \parallel z \rightarrow \\
 &z \geq y_1 \textcircled{1} + y_2 \textcircled{2} \geq 4y_1 + 2y_2
 \end{aligned}$$

# 相補性定理と多面体



$$\begin{aligned} & \text{minimize} \\ & z = x_1 + 2x_2 \\ & \text{subject to} \\ & x_1 + x_2 - s_1 = 4 \quad \textcircled{1} \\ & -x_1 + 2x_2 - s_2 = 2 \quad \textcircled{2} \\ & -x_2 - s_3 = -3 \quad \textcircled{3} \\ & x_1, x_2 \geq 0 \end{aligned}$$

主変数が2つの平面の交点  
に対応する値をとる

→対応するスラック変数値  
はゼロ、他のスラック変数  
値は正

→目的関数を制限する不  
等式の係数=双対変数  
は正、他の制約式の係数  
はゼロ

# 演習問題

解答用紙に名前・学年・学籍番号を記入し、提出

次の線形計画問題の双対問題を求め、主問題・双対問題の  
実行可能領域に対応する多面体をグラフに描け

また、制約式・目的関数に関わる平面の法線ベクトルを描き、  
双対変数どうしの関係を説明せよ

maximize

$$z = x_1 + x_2$$

subject to

$$x_1 + 2x_2 \leq 2$$

$$2x_1 + x_2 \leq 2$$

$$x_1, x_2 \geq 0$$

minimize

$$w = 2y_1 + 2y_2$$

subject to

$$y_1 + 2y_2 \geq 1$$

$$2y_1 + y_2 \geq 1$$

$$y_1, y_2 \geq 0$$