

復習:単体法

- 等式標準形に対応する simplex 表を準備する

等式標準形

minimize

$$z(= -600x_1 - 500x_2)$$

subject to

$$3x_1 + x_2 + x_3 = 45 \times 10^3$$

$$x_1 + 2x_2 + x_4 = 40 \times 10^3$$

$$z + 600x_1 + 500x_2 = 0$$

$$x_1, x_2, x_3, x_4 \geq 0$$

- simplex 表

z	x_1	x_2	x_3	x_4	定数	最大増加量
0	3	1	1	0	45×10^3	
0	1	2	0	1	40×10^3	
1	600	500	0	0	0	

復習: 単体法

5変数、3制約式の等式標準形

z	x_1	非	x_2	非	x_3	x_4	定数	最大増加量
0		3		1		1	45×10^3	
0		1		2		0	40×10^3	
1	600		500			0	0	

5-3=2変数を見捨てるならば連立方程式を解くことができる

$$\begin{aligned}
 3x_1 + x_2 + x_3 &= 45 \times 10^3 \\
 x_1 + 2x_2 + x_4 &= 40 \times 10^3 \\
 z + 600x_1 + 500x_2 &= 0
 \end{aligned}$$

無視した変数: 非基底変数、残りの変数を基底変数

基本解として x_1, x_2 を座標軸にとった原点を考える。

→ z, x_3, x_4 を基底変数、 x_1, x_2 を非基底変数とする

$$(z, x_1, x_2, x_3, x_4) = (0, 0, 0, 45 \times 10^3, 40 \times 10^3)$$

※ 基本解が実行可能 (= 全ての変数が非負) であることを確認する

復習: 単体法

• 実行可能領域の境界を辿り、目的関数を増加させる隣の基本解を探す

※ 隣の基本解 → 基底変数、非基底変数を1つずつ交換した基本解

非基底変数 → 基底変数とした場合に目的関数を減少させる変数を選ぶ
 → 目的関数の制約式において正の係数を持つ非基底変数を選ぶ

※ 複数の候補がある場合は? → 一概には言えない
 ここでは大きな係数を持つ変数を選ぶ

Z	x_1	非	x_2	非	x_3	非	x_4	定数	最大増加量
0		3		1		1		45×10^3	$/3 = 15 \times 10^3$
0		1		2		0		40×10^3	$/3 = 20 \times 10^3$
1		600		500		0		0	

※ 非基底変数となることで、基本解における変数の値は 0 となる
 → その分だけ基底変数となる変数(今回は x_1)が変化する

※ 基底変数となる変数の変化量を求める
 → 係数で定数欄の値を割り、最大変化量を求める
 → 最小の最大変化量を与える制約式に関わる変数を選ぶ
 (基底変数 → 非基底変数とする)

復習: 単体法

新しい基底変数からなる連立方程式を解き基本解を求める
 →基底変数の係数が1となるように掃き出し操作をする

	x_1	x_2	非	x_3	非	x_4	定数	最大増加量
z	0	3	1	1	0	0	45×10^3	
	0	1	2	0	1	1	40×10^3	
	1	600	500	0	0	0	0	

$\times 1/3$

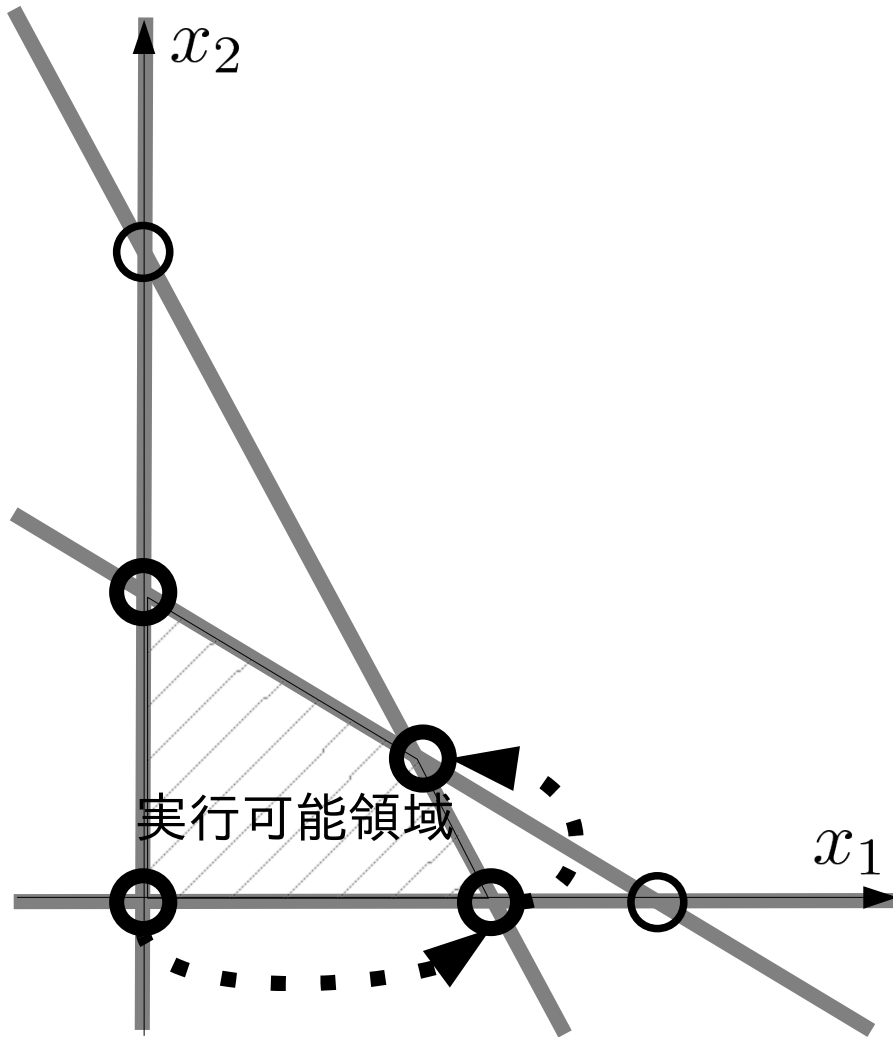
$$\begin{aligned}
 3x_1 + x_2 + x_3 &= 45 \times 10^3 \\
 x_1 + 2x_2 + x_4 &= 40 \times 10^3 \\
 z + 600x_1 + 500x_2 &= 0
 \end{aligned}$$

	x_1	x_2	非	x_3	非	x_4	定数	最大増加量
z	0	1	$1/3$	$1/3$	0	0	15×10^3	
	0	1	2	0	1	1	40×10^3	
	1	600	500	0	0	0	0	

$-\times 1$

$-\times 600$

復習: 単体法



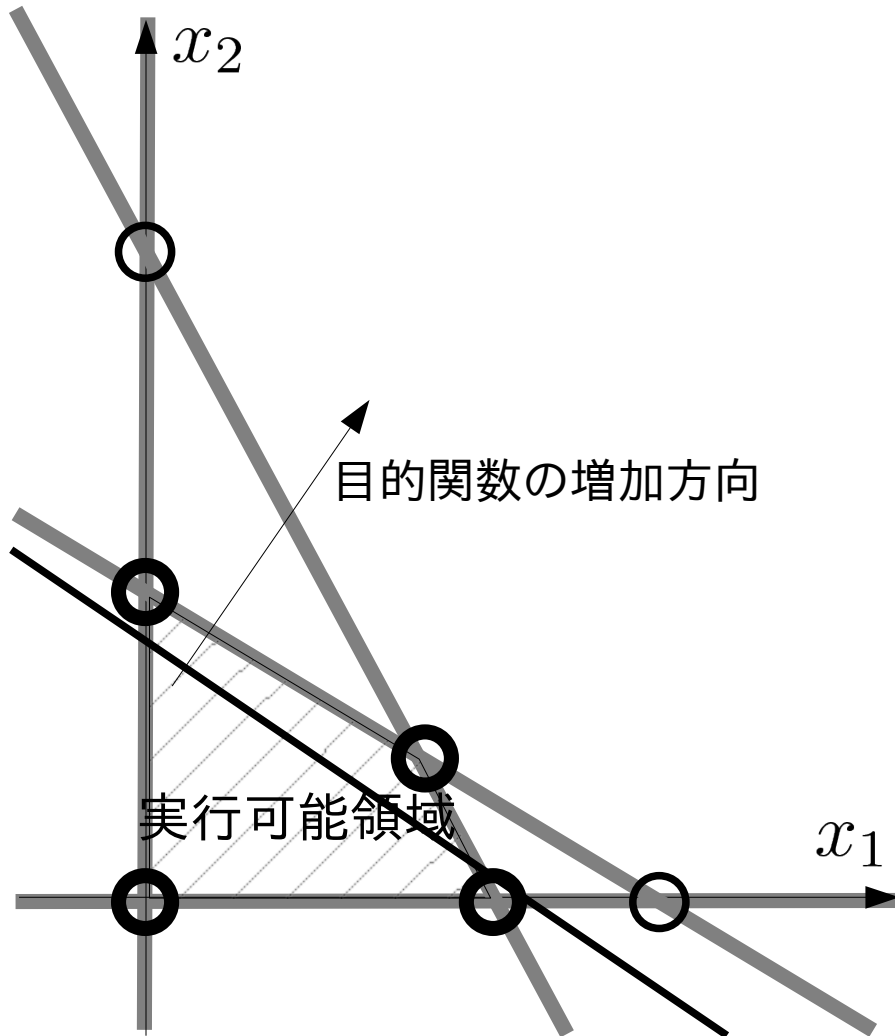
Z	x_1	非	x_2	非	x_3	x_4	定数
0	3	1	1	0	45×10^3		
0	1	2	0	1	40×10^3		
1	600	500	0	0	0		

Z	x_1	x_2	非	x_3	非	x_4	定数
0	1	$1/3$	$1/3$	0	15000		
0	0	$5/3$	$-1/3$	1	25000		
1	0	300	-200	0	-9000000		

Z	x_1	x_2	x_3	非	x_4	非	定数
0	1	0	$2/5$	$-1/5$	10000		
0	0	0	1	$-1/5$	$3/5$	15000	
1	0	0	-140	-180	-13500000		

初期基本解の決定法

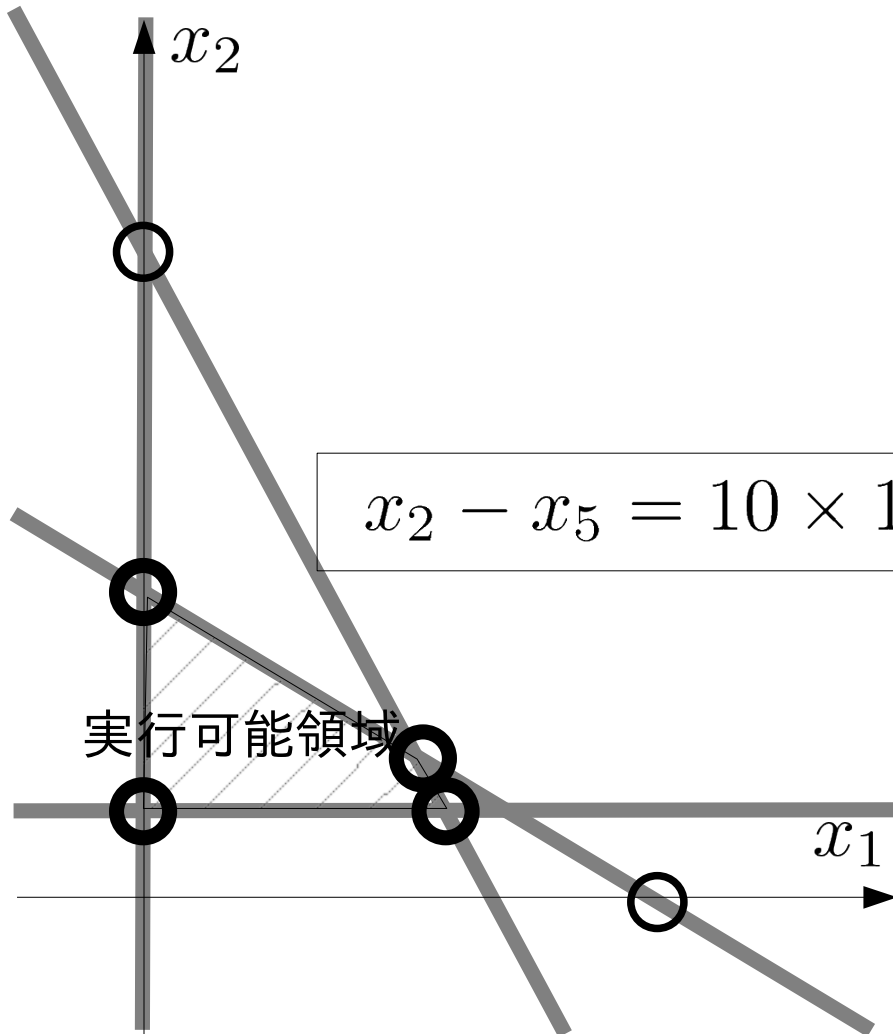
- 原点が実行可能領域に有る場合



$$\begin{aligned} & \text{maximize} \\ & 600x_1 + 500x_2 \\ & \text{subject to} \\ & 3x_1 + x_2 \leq 45 \times 10^3 \\ & x_1 + 2x_2 \leq 40 \times 10^3 \\ & x_1, x_2 \geq 0 \end{aligned}$$

初期基本解の決定法

- 原点が実行可能領域に無い場合



$$x_2 - x_5 = 10 \times 10^3$$

$$\begin{aligned} & \text{maximize} \\ & 600x_1 + 500x_2 \\ & \text{subject to} \\ & 3x_1 + x_2 \leq 45 \times 10^3 \\ & x_1 + 2x_2 \leq 40 \times 10^3 \\ & x_2 \geq 10 \times 10^3 \\ & x_1, x_2 \geq 0 \end{aligned}$$

2段階単体法

原点を実行可能領域に含む人工線形計画問題を作り
人工問題の最適解から元の問題の初期解を得る。

等式標準形

minimize

$$z = -6x_1 + 6x_2$$

subject to

$$2x_1 + 3x_2 + x_3 = 6$$

$$-5x_1 + 9x_2 = 15$$

$$-6x_1 + 3x_2 - x_4 = 3$$

$$x_1, x_2, x_3, x_4 \geq 0$$

人工問題の等式標準形

minimize

$$z = x_5 + x_6$$

subject to

$$2x_1 + 3x_2 + x_3 = 6$$

$$-5x_1 + 9x_2 + x_5 = 15$$

$$-6x_1 + 3x_2 - x_4 + x_6 = 3$$

$$x_1, x_2, x_3, x_4, x_5, x_6 \geq 0$$

人工問題は z, x_3, x_5, x_6 を基底変数、 x_1, x_2, x_4 を非基底変数とした基本解を実行可能領域に含む。→ (x_1, x_2) の原点から単体法を実行できる。

人工問題の最適解が $z = 0 \Rightarrow x_5 = x_6 = 0$ であれば、その基本解は元の問題で実行可能領域に含まれる。

2段階単体法

制約式から人工変数の表現を得て、目的関数に代入する

$$x_5 = 5x_1 - 9x_2 + 15$$

原点を実行可能領域に含む人工線形計画問題を作り、人工問題の最適解から元の問題の初期解を得る。

$$x_6 = 6x_1 - 3x_2 + x_4 + 3$$

1段目の単体法

人工問題の等式標準形

minimize

$$z = x_5 + x_6$$

subject to

$$2x_1 + 3x_2 + x_3 = 6$$

$$-5x_1 + 9x_2 + x_5 = 15$$

$$-6x_1 + 3x_2 - x_4 + x_6 = 3$$

$$x_1, x_2, x_3, x_4, x_5, x_6 \geq 0$$

人工問題の等式標準形

minimize

z

subject to

$$2x_1 + 3x_2 + x_3 = 6$$

$$-5x_1 + 9x_2 + x_5 = 15$$

$$-6x_1 + 3x_2 - x_4 + x_6 = 3$$

$$z - 11x_1 + 12x_2 - x_4 = 18$$

$$x_1, x_2, x_3, x_4, x_5, x_6 \geq 0$$

人工問題は z, x_3, x_5, x_6 を基底変数、 x_1, x_2, x_4 を非基底変数とした基本解を実行可能領域に含む。→ (x_1, x_2) の原点から単体法を実行できる。
人工問題の最適解が $z = 0 \Rightarrow x_5 = x_6 = 0$ であれば、その基本解は元の問題で実行可能領域に含まれる。

初期のsimplex表

基底変数	非基底変数	非基底変数	基底変数	非基底変数	基底変数	基底変数	
z	x_1	x_2	x_3	x_4	x_5	x_6	定数
0	2	3	1	0	0	0	6
0	-5	9	0	0	1	0	15
0	-6	3	0	-1	0	1	3
1	-11	12	0	-1	0	0	18

終了時のsimplex表

基底変数	基底変数	基底変数	非基底変数	基底変数	非基底変数	非基底変数	
z	x_1	x_2	x_3	x_4	x_5	x_6	定数
0	1	0	3/11	0	-1/11	0	3/11
0	0	0	-13/11	1	8/11	-1	9/11
0	0	1	5/33	0	2/33	0	20/11
1	0	0	0	0	0	1	0

こうして得た人工問題の基本解は元の問題の実行可能領域の端点になっている。さらに目的関数を元に戻して、simplex法を実行することで、元の問題の最適解を得ることができる。

- 最初のsimplex表

z	x_1	非	x_2	非	x_3	x_4	非	x_5	x_6	定数	最大増加量
0	2		3		1	0		0	0	6	
0	-5		9		0	0		1	0	15	
0	-6		3		0	-1		0	1	3	
1	-11		12		0	-1		0	0	18	

- 最初の基本解

非基底変数: $(x_1, x_2, x_4) = (0, 0, 0)$

基底変数: $(z, x_3, x_5, x_6) = (18, 6, 15, 3)$

- 制約式を満たす = 非負条件を満たす

z	x_1	非	x_2	非	x_3	x_4	非	x_5	x_6	非	定数	最大増加量
0	2		3		1	0		0	0		6	$/3 = 2$
0	-5		9		0	0		1	0		15	$/9 = 5/3$
0	-6		3		0	-1		0	1		3	$/3 = 1$
1	-11		12		0	-1		0	0		18	

- 連立方程式を解く

	z	x_1	非 x_2	x_3	x_4	非 x_5	x_6	非	定数	最大増加量
	0	2	3	1	0	0	0	0	6	
	0	-5	9	0	0	1	0	0	15	
$\times 1/3$	0	-6	3	0	-1	0	0	1	3	
	1	-11	12	0	-1	0	0	0	18	

	z	x_1	非 x_2	x_3	x_4	非 x_5	x_6	非	定数	最大増加量
$- \times 3$	0	2	3	1	0	0	0	0	6	
$- \times 9$	0	-5	9	0	0	1	0	0	15	
	0	-2	1	0	$-1/3$	0	$1/3$	$1/3$	1	
$- \times 12$	1	-11	12	0	-1	0	0	0	18	

	z	x_1	非 x_2	x_3	x_4	非 x_5	x_6	非	定数	最大増加量
	0	8	0	1	1	0	-1	3	3	
	0	13	0	0	3	1	-3	6	6	
	0	-2	1	0	$-1/3$	0	$1/3$	1	1	
	1	13	0	0	3	0	-4	6	6	

- 制約式を満たす = 非負条件を満たす

- 変数の交換

Z	非 x_1	x_2	x_3	非 x_4	非 x_5	x_6	非	定数	最大増加量
0	8	0	0	1	1	0	-1	3	$/8 = 3/8$
0	13	0	0	0	3	1	-3	6	$/13 = 6/13$
0	-2	1	0	-1/3	0	0	1/3	1	$/-2 = -1/2$
1	13	0	0	0	3	0	-4	6	

$\times 1/8$

Z	x_1	x_2	x_3	非 x_4	非 x_5	x_6	非	定数	最大増加量
0	8	0	0	1	1	0	-1	3	
0	13	0	0	0	3	1	-3	6	
0	-2	1	0	-1/3	0	0	1/3	1	
1	13	0	0	0	3	0	-4	6	

Z	x_1	x_2	x_3	非 x_4	非 x_5	x_6	非	定数	最大増加量
0	1	0	1/8	1/8	0	-1/8	3/8		
0	0	0	-13/8	11/8	1	-11/8	9/8		
0	0	1	1/4	-1/12	0	1/12	7/4		
1	0	0	-13/8	11/8	0	-19/8	9/8		

- 制約式を満たす = 非負条件を満たす

- 変数の交換

Z	x_1	x_2	x_3	非 x_4	非 x_5	非 x_6	非	定数	最大増加量
0	1	0	$1/8$	$1/8$	0	$-1/8$	$3/8$	$\times 8 = 3$	
0	0	0	$-13/8$	$11/8$	1	$-11/8$	$9/8$	$/ \frac{11}{8} = 9/11$	
0	0	1	$1/4$	$-1/12$	0	$1/12$	$7/4$		
1	0	0	$-13/8$	$11/8$	0	$-19/8$	$9/8$		

Z	x_1	x_2	x_3	非 x_4	x_5	非 x_6	非	定数	最大増加量
0	1	0	$1/8$	$1/8$	0	$-1/8$	$3/8$		
$\times 8/11$	0	0	$-13/11$	1	$8/11$	-1	$9/11$		
0	0	1	$1/4$	$-1/12$	0	$1/12$	$7/4$		
1	0	0	$-13/8$	$11/8$	0	$-19/8$	$9/8$		

Z	x_1	x_2	x_3	非 x_4	x_5	非 x_6	非	定数	最大増加量
0	1	0	$3/11$	0	$-1/11$	0	$3/11$		
0	0	0	$-13/11$	1	$8/11$	-1	$9/11$		
0	0	1	$5/33$	0	0	0	$20/11$		
1	0	0	0	0	-1	-1	0		

- 制約式を満たす = 非負条件を満たす

- 1段目の単体法が完了し、人工問題の最適解が求まる

z	x_1	x_2	x_3	非 x_4	x_5	非	x_6	非	定数	最大増加量
0	1	0	3/11	0	-1/11	0	3/11			
0	0	0	-13/11	1	8/11	-1	9/11			
0	0	1	5/33	0	0	0	20/11			
1	0	0	0	0	-1	-1	0			

- 最適解は元の問題の端点を成す

人工問題の等式標準形

minimize

$$z$$

subject to

$$2x_1 + 3x_2 + x_3 = 6$$

$$-5x_1 + 9x_2 + x_5 = 15$$

$$-6x_1 + 3x_2 - x_4 + x_6 = 3$$

$$z - 11x_1 + 12x_2 - x_4 = 18$$

$$x_1, x_2, x_3, x_4, x_5, x_6 \geq 0$$

等式標準形

minimize

$$z = -6x_1 + 6x_2$$

subject to

$$2x_1 + 3x_2 + x_3 = 6$$

$$-5x_1 + 9x_2 = 15$$

$$-6x_1 + 3x_2 - x_4 = 3$$

$$x_1, x_2, x_3, x_4 \geq 0$$

演習問題5

$$\begin{array}{ll} \text{maximize} & z = x_1 + 2x_2 \\ \text{subject to} & -x_1 - x_2 \geq -1 \\ & x_1 + x_2 \geq 1 \\ & x_1, x_2 \geq 0 \end{array}$$

課題1: グラフを描き、原点が実行可能領域ではないことを確認してください。

課題2: 2段階 simplex 法の第1段階を用いて実行可能領域の端点を見つけてください。

hint 2段階 simplex 法の第1段階では、

1. 等式標準形を導く
2. 正の係数の slack 変数を持たない制約式に人工変数を追加する
3. 人工変数に負の係数をつけて加えた人工目的関数の最大化問題を解く

という手順が必要です。